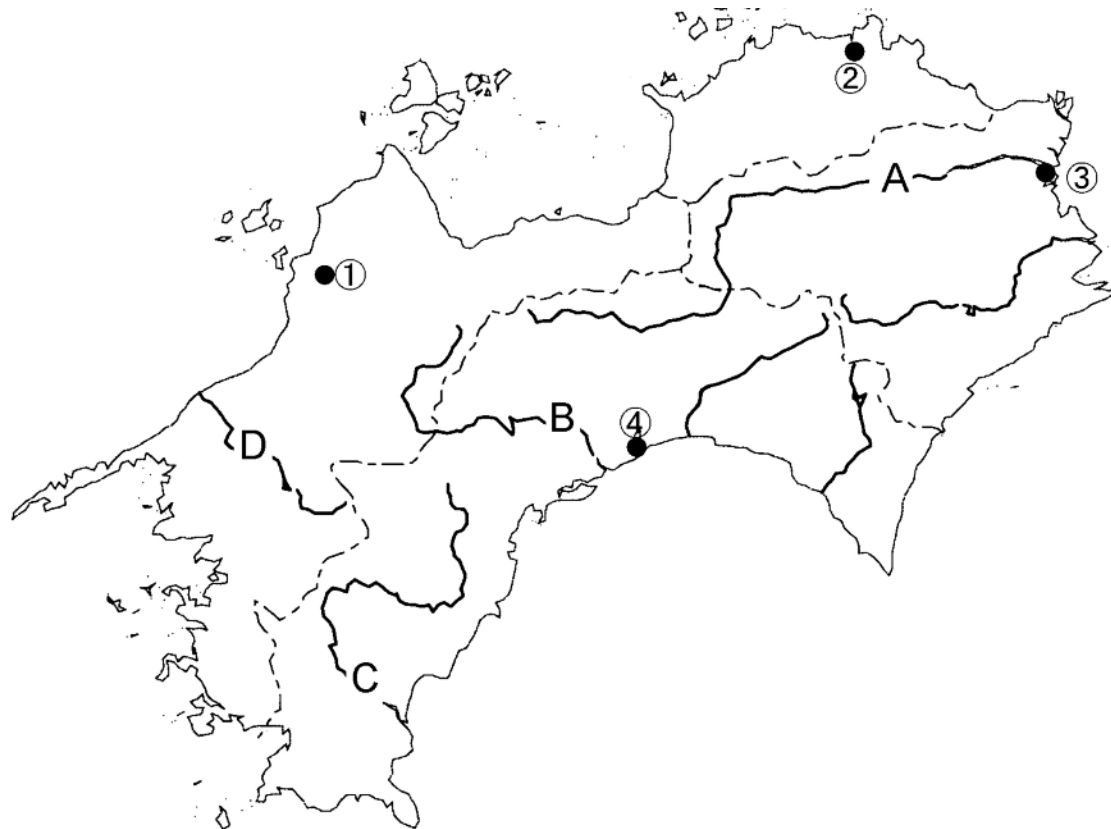


解答はすべて (その 6) の解答用紙に記入しなさい。

四国地方の地図と写真に関して、あとの問いに答えなさい。



写真ア



写真イ



写真ウ



写真エ



- (1) 地図中の ① ~ ④ の県庁所在地名を漢字で答えなさい。また、それぞれの都市を写したものを、写真ア~エから 1 つずつ選び、記号で答えなさい。
- (2) 本流にダムがないことで有名な河川を、地図中の A~D から 1 つ選び、記号で答えなさい。また、その河川名を漢字で答えなさい。

受 検 番 号	
------------------	--

(3) 写真オの橋は、四国内で「沈下橋」「潜水橋」などと呼ばれているものである。このような橋の説明として、次のア～エから適当でないものを1つ選び、記号で答えなさい。

写真オ



- ア．欄干が無い、また欄干があっても相当低く造られている。
- イ．洪水の被害を少なくするために、平常時の水面からの高さが高くないように造られている。
- ウ．壊れても再建が比較的簡単で、費用も比較的安くすむという利点がある。
- エ．安全面への配慮から、大部分の橋は夜間通行禁止となっている。

(4) 写真カは、地図中の都市 ~ のいずれかの近くで、8月に撮影されたものである。写真には手前から、収穫直後の田、田植え直後の田、収穫直前の田、ビニールハウスが写っている。以下の問い () ~ () に答えなさい。

写真カ



- (1) 写真の撮影場所に最も近い都市はどこか。 ~ の番号で答えなさい。
 - (2) 写真から判断できる水稻栽培の方式を漢字3字で答えなさい。
 - (3) 写真のビニールハウス内で栽培されていると考えられるものを、次のア～エから1つ選び、記号で答えなさい。
- ア．蜜柑 イ．蓮根 ウ．生姜 エ．柚子

歴史を学ぶには史料文を読むことが必要である。さまざまな史料文に関するあとの問いに答えなさい。

(1) 次の X・Y の中国の歴史書に関して述べた文として正しいものを、あとのア～エから1つ選び、記号で答えなさい。

- X) 建武中元2年、倭王の使者がみつぎものをもってきた。おかえしに光武帝は、印とくみひもを与えた。
- Y) 倭王は次のような文書をたてまつってきた。「わたしの祖先はよろいかぶとに身を固めて、山を越え、川を渡って落ち着くひまも無く、東は五十五の国、西では六十六の国をたいらげ、海を渡って九十五の国を従えました。」
- ア．Xのころ、弓矢や土器が発明された。Yのころ、近畿地方を中心に大型の前方後円墳が造られた。
- イ．Xのころ、弓矢や土器が発明された。Yのころ、九州か近畿地方に邪馬台国が存在したと言われる。
- ウ．Xのころ、青銅器や鉄器が使用され始めた。Yのころ、近畿地方を中心に大型の前方後円墳が造られた。
- エ．Xのころ、青銅器や鉄器が使用され始めた。Yのころ、九州か近畿地方に邪馬台国が存在したと言われる。

(2) 次の法令が出たころの文化的なできごととして正しいものを、あとのア～エから1つ選び、記号で答えなさい。

- 「聞くところによると、開墾された土地は …… 一度開墾されてもまた荒れはててしまう。だから今後は、開墾地を農民の思うままに私有させ、三世一身の法に関係なく、公有地として収めることはやめよ。」
- ア．「古今和歌集」がつくられる イ．平等院鳳凰堂が建てられる
 - ウ．親鸞が浄土真宗を開く エ．大仏建立の詔が出る

(3) 次の文学作品や和歌が作られた時期を年代順に正しく並べかえたものを、あとのア～カから1つ選び、記号で答えなさい。

- X) この世をば わが世とぞ思ふ 望月の かけたることも なしと思へば
 - Y) 祇園精舎の鐘の声 諸行無常の響あり 沙羅双樹の花の色 盛者必衰の理をあらわす
 - Z) 天の原 ふりさけみれば 春日なる 三笠の山に いでし月かも
- ア． X Y Z イ． X Z Y ウ． Y X Z
 エ． Y Z X オ． Z X Y カ． Z Y X

受 検 番 号	
------------------	--

(4) 鎌倉 ~ 室町時代の史料文に関する年表を見て、あとの問い () ~ () に答えなさい。

年代	史料文の一部 (やさしく改めている)
1232	諸国の (X) が行うべき仕事について、頼朝公のときに定められたのは、大番役の催促と、殺人犯の取り締まりである。
(a)	
1297	土地を質に入れて流したり、売買したりすることは、御家人の生活が困るもととなっている。..... 以前に売った土地は、本来の所有者に戻すべきである。ただし、幕府から正式な文書が下されていたり、その土地を治めるのが 20 年を過ぎている場合は、取り戻すことはできない。
(b)	
1334	このごろ都にはやるものは、夜討ち・強盗やにせの文書である。..... 急に大名に取り立てられた成り上がりで宮中の勝手がわからずうろろしている者、..... 褒美欲しさにありもしない戦を申し出る者。
(c)	
1428	正長元年 9 月、天下の土民が立ち上がって、徳政を宣言し、(Y)・寺院などをおそい、質入したものを取り返し、借金証文をやぶりすてた。..... 日本国がはじまって以来、土民が立ち上がったのは、これが最初である。
(d)	
1485	文明 17 年 12 月 11 日、今日、(Z) の国人が会合を開いた。..... 同じように、(Z) の国中の土民たちも各所に集まった。そして国内で戦っている両畠山の軍に対して、次のような処置を定めた。 一、両畠山の軍は国内に入るべからず。
(e)	
1526	駿河・遠江の今川氏の家来は、自分かってによその国から嫁をとったり、または婿をとったり、むすめを嫁にやったりすることを今後はしてはいけない。

年表中の (X) ~ (Z) にあてはまる語を正しく組み合わせたものを、次のア ~ カから 1 つ選び、記号で答えなさい。

- ア . X = 地頭、Y = 土倉・酒屋、Z = 加賀 イ . X = 地頭、Y = 土倉・酒屋、Z = 山城
 ウ . X = 地頭、Y = 蔵元・掛屋、Z = 加賀 エ . X = 守護、Y = 土倉・酒屋、Z = 山城
 オ . X = 守護、Y = 蔵元・掛屋、Z = 加賀 カ . X = 守護、Y = 蔵元・掛屋、Z = 山城

「元寇 (蒙古襲来) 」と「応仁の乱」の時期は、年表中の (a) ~ (e) のどこにあてはまるか。正しく組み合わせたものを、次のア ~ カから 1 つ選び、記号で答えなさい。

- ア . 元寇 = (a)、応仁の乱 = (c) イ . 元寇 = (a)、応仁の乱 = (d) ウ . 元寇 = (a)、応仁の乱 = (e)
 エ . 元寇 = (b)、応仁の乱 = (c) オ . 元寇 = (b)、応仁の乱 = (d) カ . 元寇 = (b)、応仁の乱 = (e)

年表中の 1297 年の史料は何という法令か。6 字で書きなさい。

年表中の 1334 年の史料はだれの政治を皮肉ったものか。漢字で書きなさい。

年表中の 1526 年の史料に関する次の文 X・Y の正誤を判断し、あとのア ~ エから 1 つ選び、記号で答えなさい。

- { X) 「駿河・遠江」は、現在の静岡県に含まれる。
 Y) この分国法を定めた「今川氏」は、やがて義元が豊臣秀吉によって滅ぼされた。

- ア . X ... 正、Y ... 正 イ . X ... 正、Y ... 誤
 ウ . X ... 誤、Y ... 正 エ . X ... 誤、Y ... 誤

受 検 番 号	
------------------	--

(5) 江戸時代には、庶民が幕府の政治や社会の様子を風刺したり皮肉ったりする狂歌をつくった。次の 2 つの作品の空らん < > に入る共通の語をひらがなで書きなさい。

{ 世の中に 蚊ほどうるさき ものはなし ぶんぶといふて < >
 { 泰平の 眠りをさます 上喜撰 たった四はいで < >

(6) 次の X ・ Y の書物の著者はそれぞれだれか。正しい組み合わせを、あとのア～エから 1 つ選び、記号で答えなさい。

{ X) その翌日、前野良沢の家に集まり、前日のことを話し合い、良沢の「ターヘル・アナトミア」を読み始めたが、まったくどうしてよいかわからない。
 { Y) 天は人の上に人を造らず、人の下に人を造らずと云へり。されば天より人を生ずるには、万人は万人皆同じ位にして……されば賢人と愚人ととの別は学ぶと学ばざるとに由って出で来るものなり。

ア . X = 杉田玄白、Y = 福沢諭吉 イ . X = 杉田玄白、Y = 吉田松陰

ウ . X = 伊能忠敬、Y = 福沢諭吉 エ . X = 伊能忠敬、Y = 吉田松陰

(7) 次の ・ の詩歌が関連する戦争と関係の深い条約の内容を X ～ Z から正しく組み合わせたものを、あとのア～エから 1 つ選び、記号で答えなさい。

{) ああ、弟よ君を泣く、君死にたまふことなかれ 末に生まれし君なれば 親のなさはまさりしも
 {) 地図の上 朝鮮国に くるぐると 墨を塗りつつ 秋風を聞く
 { X) 清国は、朝鮮国が完全な独立国であることを認める。
 清国は、軍事費の賠償金として銀 2 億両を日本に支払うことを約束する。
 { Y) 韓国皇帝陛下は、韓国全部に対するすべての統治権を、完全にそして永久に日本国皇帝陛下にゆずりわたす。
 { Z) ロシア帝国は、日本国が韓国内で政治・軍事・経済上の優越権を持つことを認め、日本国が韓国内で行う指導・保護や管理の処置をとることをさまたげないと約束する。

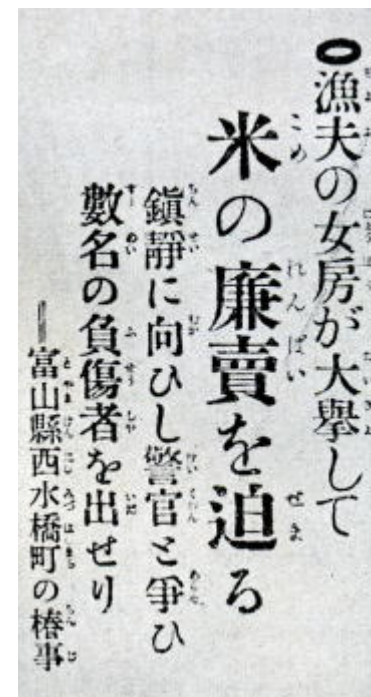
ア . = X、 = Y イ . = X、 = Z ウ . = Z、 = X エ . = Z、 = Y

(8) 右の新聞記事のできごとに関する次の文 X ・ Y の正誤を判断し、あとのア～エから 1 つ選び、記号で答えなさい。

{ X) 第一次世界大戦中の不景気が原因で起こった。
 { Y) この事件の後、原敬を首相とする政党内閣ができた。

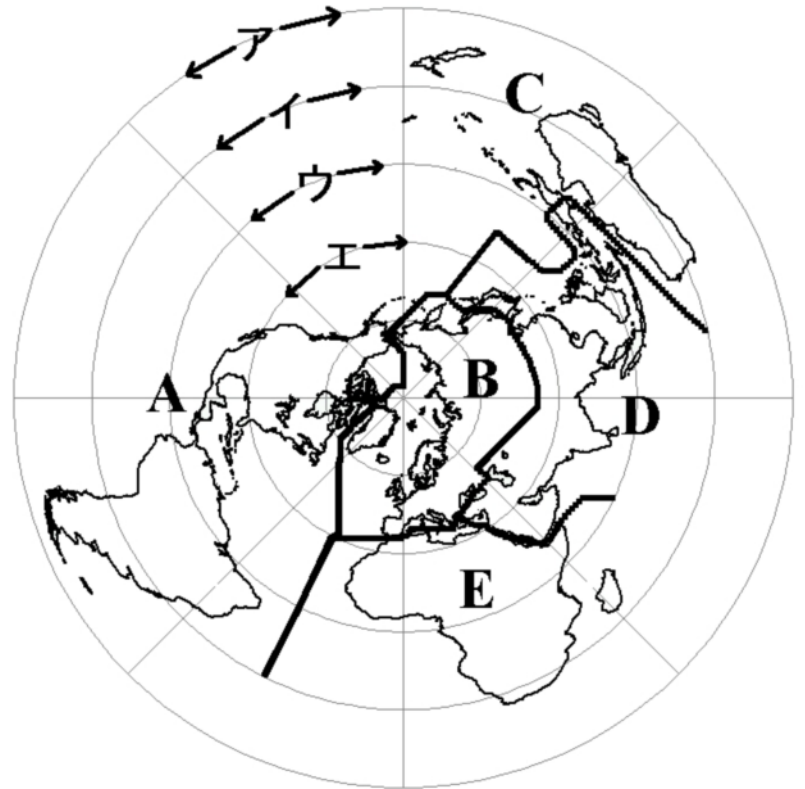
ア . X … 正、Y … 正 イ . X … 正、Y … 誤

ウ . X … 誤、Y … 正 エ . X … 誤、Y … 誤



受 検 番 号	
------------------	--

国際連合旗の中央に描かれている図と、この図中の地図を拡大したものを見て、あとの問いに答えなさい。



(注 . 右地図の地域分類は、「世界国勢図会」に従った)

- (1) この図に描かれているオリーブの葉が象徴している事からを、次のア～オから 1 つ選び、記号で答えなさい。
 ア . 環境の保護 イ . 人類の繁栄 ウ . 各国の協調 エ . 世界の平和 オ . 歴史ある伝統
- (2) この地図の中心点はどこか。次のア～オから 1 つ選び、記号で答えなさい。
 ア . 東京 イ . 北極点 ウ . 南極点 エ . ニューヨーク オ . ロンドン
- (3) この地図で赤道はどの円にあたるか。地図中のア～エから 1 つ選び、記号で答えなさい。
- (4) 地図中の A～E のそれぞれの地域とその名称の正しい組み合わせを、次のア～オから 1 つ選び、記号で答えなさい。
 ア . A = ヨーロッパ イ . B = アメリカ ウ . C = アフリカ エ . D = アジア オ . E = オセアニア
- (5) 国際連合について、以下の問い () ～ () に答えなさい。
) 国際連合は、何年に設立されたか。西暦で答えなさい。
) 2008 年末現在で、加盟国数が最多となる地域を、地図中の A～E から 1 つ選び、記号で答えなさい。
) 次のア～クの言語を下の表に従って分類したとき、太線の枠内にある 2 つの () にあてはまるものを選び、記号で答えなさい。
 ア . アラビア語 イ . フランス語 ウ . 日本語 エ . 英語
 オ . スペイン語 カ . ロシア語 キ . 中国語 ク . ドイツ語

国際連合の公用語	安全保障理事会の常任理事国の公用語	() () () ()
	安全保障理事会の常任理事国の公用語ではない言語	() ()
国際連合の公用語ではない言語		() ()

) 国際連合の機関とその機関に関連する語句や人名の組み合わせとして、次のア～オから適当でないものを 2 つ選び、記号で答えなさい。

- ア . 経済社会理事会 - オリンピック イ . 総会 - 多数決制
 ウ . 国際司法裁判所 - 国際赤十字 エ . 事務局 - 潘基文
 オ . 安全保障理事会 - 拒否権

受 検 番 号	
------------------	--

(1)	県庁所在地名		写真
		市	
		市	
		市	
(2)	記号	名称	川 (3)
(4)	i)	ii)	iii)

(1)	(2)	(3)
(4)	i)	ii)
	iii)	
	iv)	v)
(5)	(6)	
(7)	(8)	

(1)	(2)	(3)	(4)
(5)	i)	年 ii)	
	iii)	iv)	

受 検 番 号		得 点	
------------------	--	--------	--