



下線部 に関して、次のア～エの国旗は、2000 年、2004 年、2008 年、2012 年の夏季オリンピックの開催地 (予定地を含む) がある国の国旗を示したものである。開催順に並べかえなさい。


ア .



イ .



ウ .



エ .



(3) オリンピック終了後に、原則として同じ開催地で、体が不自由な人のためのスポーツの祭典が開かれる。これを通称何と呼んでいるか、答えなさい。

(4) まさお君が、中国の料理について調べてみると、一口に中華料理といっても材料も味つけも地域によって様々であることが分かった。大きく分けると北京料理を代表とする北方系と上海料理を代表とする東方系、広東料理を代表とする南方系、四川料理を代表とする西方系の 4 つに分けることができる。そこで、北京・上海・広東・四川の 4 つの料理の特徴と代表的な料理を調べて次の表を完成させたい。

	北京料理	上海料理	四川料理	広東料理
特徴・食材				
代表的な料理 (例)				

表中の ~ にあてはまるものを、次のア～エから 1 つずつ選び、記号で答えなさい。

ア . 内陸盆地で、寒暖の差が激しい。湿度が高く、風土病防止のため、山椒や唐辛子などの香辛料を使った辛い料理が多い。

イ . 長江下流域を中心に発達した料理。川魚やエビ・カニなどの魚介類をしょうゆや砂糖で甘辛く味つけする。特に川でとれる特産のカニは、珍味とされている。

ウ . 温暖な気候である。新鮮で豊富な海産物などの材料を用いたあっさりした淡泊な味つけが多い。干しなまこ、ツバメの巣、蛇、犬など珍しい食材も多い。飲茶の習慣がある。

エ . 宮廷料理から発達した。味つけは比較的濃く、塩辛い。食材としては、小麦粉を用いたものが多い。豚肉のほか羊の肉もよく食べられる。

表中の ~ にあてはまるものを、次のア～エから 1 つずつ選び、記号で答えなさい。

ア . 酢豚、ふかひれスープ、マンゴープリン

イ . ワンタン、八宝菜、魚の甘酢あんかけ

ウ . 餃子、アヒルの丸焼き、ぶたまん

エ . 麻婆豆腐、回鍋肉、担々麺

地図中の X Y を結んだ線の北側と南側では、主に生産されている穀物が異なっている。それぞれの地域で主に生産されている穀物の正しい組み合わせを、次のア～エから 1 つ選び、記号で答えなさい。

ア . 北側 米、南側 とうもろこし イ . 北側 とうもろこし、南側 小麦

ウ . 北側 米、南側 小麦 エ . 北側 小麦、南側 米

(5) まさお君が中国の工業についても調べてみると、様々な製品の生産台数が世界一であることが分かった。次のア～オの製品の中で、中国の生産台数が世界一でないものを 1 つ選び、記号で答えなさい。

ア . カラーテレビ イ . オートバイ ウ . カーナビゲーション

エ . パソコン オ . 携帯電話

受 検 番 号	
------------------	--

次のランさんとチサトさんの会話を読んで、あとの問いに答えなさい。

ラン：来年は平城京へ都を移して 1300 年の記念の年ね。

チサト：都の移り変わりについてちょっと調べてみたんだけど、難波、大津、奈良、そして 京都 ……。近畿をぐるぐる回っているみたい。

ラン：本当ね。近畿の「畿」という文字は「都に近い土地」という意味なんだって。

チサト：へえ、そうなんだ。でも 幕府が出来て、武士の世の中になってから、都はどうなったの。

ラン：ずっと京都のままよ。幕府は鎌倉、室町、江戸と移り変わったけど。明治に改元する直前に、江戸を東京と改め、その翌年、京都から 東京へ首都を移したのよ。

チサト：それが今でも続いているんだね。

(1) 下線部 に都を移したことは、大化の改新で行われた施策の 1 つであるが、大化の改新について誤っているものを次のア～オから 1 つ選び、記号で答えなさい。

ア．改新の詔で、公地公民の原則や、太政官が政治を行うことが示された。

イ．645 年におこった変により、蘇我入鹿は殺害され、蘇我蝦夷は自殺した。

ウ．645 年におこった変の中心人物である中大兄皇子は、皇太子となった。

エ．大化の改新の「大化」とは、中国にならった元号で、日本で初めての元号といわれている。

オ．大化の改新の一因には、蘇我氏の横暴に対する不満があげられる。

(2) 下線部 に都を移したのは中大兄皇子である。都を移した理由は、日本が唐・新羅連合軍に敗れ、その脅威に備えるためであるとも考えられている。その戦いの名称を漢字で答えなさい。

(3) 下線部 にあった平城京について、誤っているものを次のア～オから 1 つ選び、記号で答えなさい。

ア．平城京は、唐の都長安にならってつくられた。

イ．平城京の前の都は、持統天皇が移した長岡京である。

ウ．平城京は、朱雀大路を中心に碁盤の目のように区画された都市であった。

エ．平城京は、710 年に元明天皇によってつくられた。

オ．平城京では和同開珎という貨幣が使われていた。

(4) 下線部 を都にしていた平安時代のできごとについて、正しいものを次のア～オから 1 つ選び、記号で答えなさい。

ア．藤原定家らにより「古今和歌集」が編纂された。

イ．平安京は、794 年に文武天皇によってつくられた。

ウ．藤原道長は、宇治に平等院鳳凰堂を建てた。

エ．日本の自然や風俗を描いた大和絵が生まれた。

オ．平清盛は、武士として初めて関白となった。

(5) 下線部 について、各幕府のしくみに関する組み合わせとして、3 つすべてが正しいものを次のア～オから 1 つ選び、記号で答えなさい。

ア．鎌倉幕府 執権 室町幕府 京都所司代 江戸幕府 町奉行

イ．鎌倉幕府 鎌倉府 室町幕府 管領 江戸幕府 大老

ウ．鎌倉幕府 六波羅探題 室町幕府 老中 江戸幕府 大目付

エ．鎌倉幕府 侍所 室町幕府 鎌倉府 江戸幕府 若年寄

オ．鎌倉幕府 政所 室町幕府 問注所 江戸幕府 六波羅探題

受 検 番 号	
------------------	--

(6) 下線部 の時代の農業・産業について正しいものを次のア～オから 1 つ選び、記号で答えなさい。

- ア．このころ、馬借とよばれる運送業者が活躍した。
- イ．このころ、干鰯や油かすなどの肥料が普及した。
- ウ．このころ、九十九里浜での地曳網漁がさかんとなった。
- エ．このころ、深く耕すために牛馬を使用するようになった。
- オ．このころ、定期市が月 3 回開かれるようになった。

(7) 下線部 の時代に行われた政策について、誤っているものを次のア～オから 1 つ選び、記号で答えなさい。

- ア．松平定信は、借金に苦しむ武士のために、借金を帳消しにする法令を出した。
- イ．徳川吉宗は、飢饉対策として、諸藩に米を蓄えさせる囲い米の制を定めた。
- ウ．水野忠邦は、物価を引き下げするために、株仲間を解散した。
- エ．田沼意次は、商業を活発化させるとともに、長崎貿易を拡大した。
- オ．新井白石は、金銀が海外に流出するのを防ぐため、長崎での貿易を制限した。

(8) 下線部 の前後におこった次のア～オの出来事を年代順に並べかえたとき、4 番目になるものはどれか、記号で答えなさい。

- ア．五箇条の御誓文 イ．大政奉還 ウ．廃藩置県 エ．版籍奉還 オ．王政復古の大号令

次の (1) ~ (5) の人物はだれか、漢字で答えなさい。また、(1) ~ (5) の下線部分が何時代であるかを、下の語群から 1 つずつ選び、記号で答えなさい。

- (1) この人物は、遣唐使にしながら中国にわたって新しい仏教を学び、帰国後、天台宗をひらいて 仏教修行の新しい道を唱えた。
- (2) この人物が首相であるときに、「満州国」の建国が宣言された。この人物は「満州国」の承認をしぶったため、この年の 5 月 15 日に、海軍青年将校の一団に射殺された。
- (3) この人物は、東京帝国大学教授で、「憲政の本義を説いて其の有終の美を済すの途を論ず」と題する論文を発表し、民本主義を主張した。
- (4) この人物は、中国大陸にわたって墨一色で自然を描く水墨画の技術を学び、その作画技術を集大成し、日本の水墨画の様式を創造した。
- (5) この人物は、「日本永代蔵」など浮世草子とよばれる小説を書き、町人の生活や欲望をありのままに描いた。

ア．飛鳥時代	イ．奈良時代	ウ．平安時代	エ．鎌倉時代
オ．室町時代	カ．安土桃山時代	キ．江戸時代	ク．明治時代
ケ．大正時代	コ．昭和時代	サ．平成時代	

受 検 番 号	
------------------	--

次の文章を読んで、あとの問いに答えなさい。

日本の内閣は、内閣総理大臣と国務大臣から成る。 選挙で最も多くの票を得た政党の党首が内閣総理大臣に就任し、内閣を組織することが多いが、他の政党と(x)して政権を担当することもある。 国務大臣は、様々な省の長として活動することが多い。 内閣は、法律に基づいて政治を行うだけでなく、国会や裁判所とも権限を行使しあって、お互いに権力濫用の防止に努めている。

(1) 文中の (x) にあてはまる語句を漢字 2 字で答えなさい。

(2) 下線部 について、以下の問い () と () に答えなさい。

) 大日本帝国憲法が発布された時の内閣総理大臣はだれか。次のア～エから 1 つ選び、記号で答えなさい。

ア . 伊藤博文 イ . 板垣退助 ウ . 大隈重信 エ . 黒田清隆

) 内閣総理大臣を経験し、後にノーベル平和賞を受賞した人はだれか。漢字で答えなさい。

(3) 下線部 について、1918 年に、初めて本格的に、このような形の内閣がつくられた。このときの内閣総理大臣はだれか。漢字で答えなさい。

(4) 下線部 について、以下の問い () ~ () に答えなさい。

) 社会保障や医療に関する業務を行う省の名前を漢字で答えなさい。

) 1971 年に発足したときは「庁」であったが、その役割の重要性から 2001 年に「省」になった省の名前を漢字で答えなさい。

) 現在の日本には存在しない省を、次のア～エから 1 つ選び、記号で答えなさい。

ア . 財務省 イ . 内務省 ウ . 外務省 エ . 法務省

) 次の文は、福田康夫内閣の時から設置が検討されている、新しい省庁について述べたものである。文中の (y) には同じ語句が入る。その語句を漢字 3 字で答えなさい。

この省庁は、産地を偽った農産品や不衛生な食品が流通した事件を背景に (y) の安全・安心を確保するために (y) 行政を専門に行う。

(5) 下線部 について、次の文は、内閣が裁判所に対して行使する権限をまとめたものである。(z) にあてはまる語句を漢字 2 字で答えなさい。

最高裁判所の長官を指名し、その他の裁判官を (z) する。

(6) 下線部 について、著書「法の精神」の中で、三権分立の必要性を強調した、フランスの思想家の名前を答えなさい。

受 検 番 号	
------------------	--

(1)		(2)	i)		ii)		iii)	
(2)	iv)		v)					
(3)								
(4)	i)							
	ii)							
	iii)		(5)					

(1)		(2)	の戦い				(3)	
(4)		(5)		(6)		(7)		(8)

	人物名	時代		人物名	時代
(1)			(2)		
(3)			(4)		
(5)					

(1)		(2)	i)		ii)	
(3)						
(4)	i)	省			ii)	省
	iii)		iv)			
(5)		(6)				

受 検 番 号		得 点	
------------------	--	--------	--