

解答はすべて (その 7) の解答用紙に記入すること

2007 年 6 月、石見銀山がユネスコの世界文化遺産 (日本で 11 件め) に登録された。そこで、金銀銅や鉄などの歴史に関する次の年表を見て、あとの問いに答えなさい。

世紀	主 な で き ご と
紀元前 3 世紀ころ	米づくりの技術とともに、中国や朝鮮半島から青銅器・鉄器が日本に伝わった。
紀元後 4 世紀	大和朝廷が鉄資源を求めて <u>朝鮮半島の南部に兵を進めた</u> 。
8 世紀	埼玉県 (武蔵) から銅が出たことを受けて (A) が作られ、また、 <u>聖武天皇が金銅の大仏を作る際には東北 (陸奥) から出た金が用いられた</u> 。
12 世紀	<u>平清盛が盛んに行った宋との貿易では、日本から金が輸出され、宋銭が輸入された</u> 。
13 世紀	<u>鉄製の鋤や鋤が農民に行きわたり、牛や馬に鋤を引かせて深く耕すことができるようになった</u> 。
15 世紀	中国 (明) との勘合を用いた貿易が始まり、(B) などの明銭が盛んに輸入された。
16 世紀	石見銀山をめぐる争いに (C) 氏が勝利した。 山梨県 (甲斐) の金山を手に入れていた (D) 氏が長篠の戦いで織田信長に敗れた。 金色の地に緑や青などの色で描く <u>障壁画</u> が盛んになった。
17 世紀	徳川家康は佐渡金山や石見銀山・生野銀山などを天領とし、金貨・銀貨を全国に通用させた。 5 代将軍徳川綱吉のとき、 <u>新たな金貨・銀貨を発行した</u> 。 鉄製の農具が改良され、開墾用の備中鋤や (E) 千歯こきが使用された。
18 世紀	<u>老中田沼意次が、銅や北海道 (蝦夷地) の海産物を俵物として輸出して、金銀を輸入しようとした</u> 。
19 世紀	<u>江戸時代の末期に欧米諸国との貿易が始まると、安く手に入る日本の金が大量に持ち出された</u> 。 明治政府は、官営の工場や鉱山を運営したが、やがて富岡製糸場や <u>足尾銅山</u> など官営事業の多くは民間に払い下げられた。
20 世紀	太平洋戦争中の水害で、石見銀山は完全閉山となった。

(1) 空らん (A) と (B) にあてはまる貨幣の組み合わせを、次のア～エから 1 つ選び、記号で答えなさい。

ア . A = 和同開珎、B = 寛永通宝 イ . A = 和同開珎、B = 永楽通宝

ウ . A = 富本銭、B = 寛永通宝 エ . A = 富本銭、B = 永楽通宝

(2) 空らん (C) と (D) にあてはまる戦国大名の組み合わせを、次のア～エから 1 つ選び、記号で答えなさい。

ア . C = 上杉、D = 武田 イ . C = 上杉、D = 今川 ウ . C = 毛利、D = 武田 エ . C = 毛利、D = 今川

(3) 空らん (E) にあてはまる用途を、次のア～エから 1 つ選び、記号で答えなさい。

ア . 深く耕すことができる イ . 脱穀がはやくできる

ウ . 米とゴミをふるいわける エ . 米の大きをよりわける

受
検
番
号

- (4) 下線部 に関して、ある国の好太王が 4 世紀末から 5 世紀初めにかけて大和朝廷の軍を破ったことが石碑に記されている。ある国とはどこか。次のア～エから 1 つ選び、記号で答えなさい。
- ア．百済 イ．加羅 ウ．新羅 エ．高句麗
- (5) 下線部 に関して、朝廷が大僧正という高い地位につけて大仏造立に協力させた僧は誰か。漢字 2 字で答えなさい。
- (6) 下線部 の人物に関する文として正しいものを、次のア～エから 1 つ選び、記号で答えなさい。
- ア．平治の乱で源義家を破った イ．壇の浦で源義経に敗れた
ウ．天皇の娘を妻として迎えた エ．武士として初めて太政大臣となった
- (7) 下線部 に関して、この頃の社会の様子を伝える史料文として正しいものを、次のア～エから 1 つ選び、記号で答えなさい。
- ア．地頭は、わたしたちを人夫としてこき使います。村から逃げ出した農民の田畑に麦をまけと命じ、もし麦をまかないなら、女や子供をつかまえて……
- イ．人並みに田畑を耕しているのに、綿のないぼろの布を着て、つぶれそうな家で地面にわらをしいて……こんな苦しい暮らしなのに、むちを手にした里長が税を納めると戸口でわめいている。
- ウ．われわれ尾張の国の郡司や百姓は、国司の藤原元命が 3 年間にわたって行った、以下の悪政の 31 か条について、朝廷にお裁きをお願いいたします。
- エ．一、寄合に 2 回欠席したものは、罰金を払うこと
一、まきや炭は村のものをつかうこと
一、保証人なしに、よそのものを村においてはいけない
- (8) 下線部 について、当時このような絵を描いた画家は誰か。次のア～エから 1 つ選び、記号で答えなさい。
- ア．狩野永徳 イ．俵屋宗達 ウ．菱川師宣 エ．歌川広重
- (9) 下線部 の内容とその結果として正しいものを、次のア～エから 1 つ選び、記号で答えなさい。
- ア．貨幣の質を良くしたので物価が上がった イ．貨幣の質を良くしたので物価が下がった
ウ．貨幣の質を悪くしたので物価が上がった エ．貨幣の質を悪くしたので物価が下がった
- (10) 下線部 が政治を行っていた時期とその時期のできごととして正しいものを、次のア～エから 1 つ選び、記号で答えなさい。
- ア．享保改革と寛政改革との間の時期で、大塩平八郎の乱が起こった
イ．享保改革と寛政改革との間の時期で、天明の大飢饉が起こった
ウ．寛政改革と天保改革との間の時期で、大塩平八郎の乱が起こった
エ．寛政改革と天保改革との間の時期で、天明の大飢饉が起こった
- (11) 下線部 に関して、この時期の貿易額が最も大きかった相手国と日本の主な輸出品の正しい組み合わせを、次のア～エから 1 つ選び、記号で答えなさい。
- ア．最大の相手国はイギリスで、主な輸出品は生糸 イ．最大の相手国はイギリスで、主な輸出品は綿織物
ウ．最大の相手国はアメリカで、主な輸出品は生糸 エ．最大の相手国はアメリカで、主な輸出品は綿織物
- (12) 下線部 に関して、足尾銅山がある県のできごととして正しいものを、次のア～エから 1 つ選び、記号で答えなさい。
- ア．源頼朝が幕府を開いた
イ．相沢忠洋が、日本で初めて打製石器を発見した
ウ．アメリカ人のモースが、日本で初めて貝塚を発見した
エ．徳川家康をまつる東照宮が建てられた

受 検 番 号	
------------------	--

次の文章を読み、グラフを見て、あとの問いに答えなさい。

鉄は産業の「米」といわれている。わが国で近代的製鉄業のための工場建設が始まったのは(x)世紀のことで、それまでは砂鉄と木炭を利用した「^{たたら}踏鞴」とよばれる方法であった。現在、世界的な製鉄国であるわが国は、原料・燃料のほとんどを輸入に頼っている。一方、生産された鉄(粗鋼)の25%が輸出されている。

図1 (A) の輸入 (%)

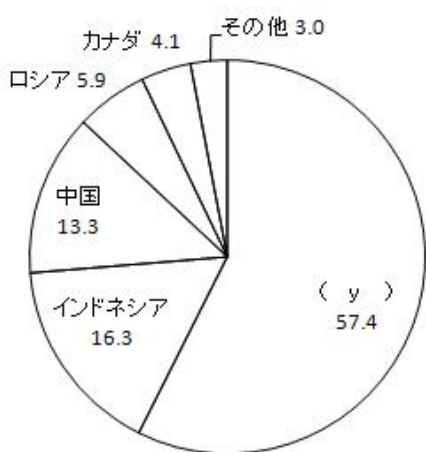


図2 (B) の輸入 (%)

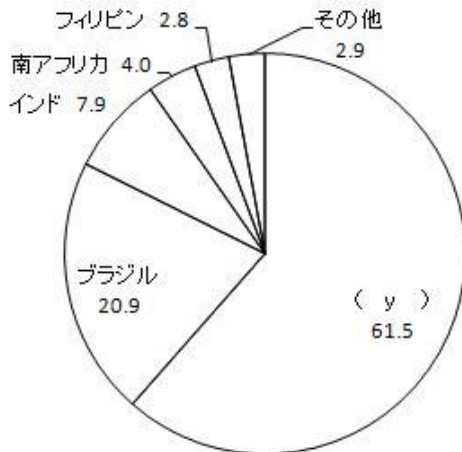
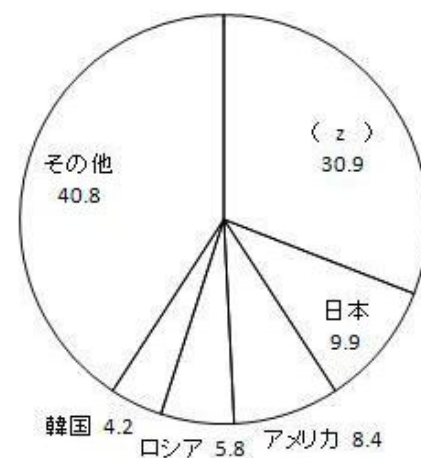


図3 世界の鉄(粗鋼)生産 (%)



- (1) 文中の (x) にあてはまる数字を答えなさい。
- (2) 文中の原料・燃料について、以下の問い () と () に答えなさい。
 - i) 図1・2は2004年の日本の輸入割合を示している。(A)(B)にあてはまる資源名を漢字で答えなさい。
 - ii) 図1・2中の (y) は同一の国である。国名を答えなさい。
- (3) 図3は2005年の世界の鉄(粗鋼)生産量の国別割合を示している。グラフ中の (z) の国名を答えなさい。
- (4) 下の図は、わが国のアルミニウム精錬工場、セメント工場、製鉄工場について、1965年と2000年の立地の変化を示している。製鉄工場の立地の変化を示したものをア～ウから1つ選び、記号で答えなさい。

	ア	イ	ウ
1965年			
2000年			

受 検 番 号	
------------------	--


次の図2の地形図は、図1の  の地域の一部 (の部分) である。あとの問いに答えなさい。

図1

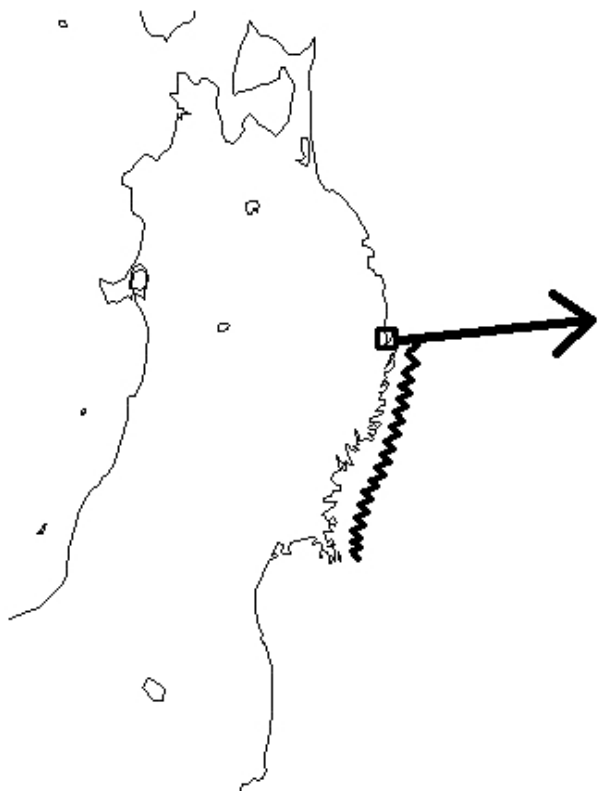
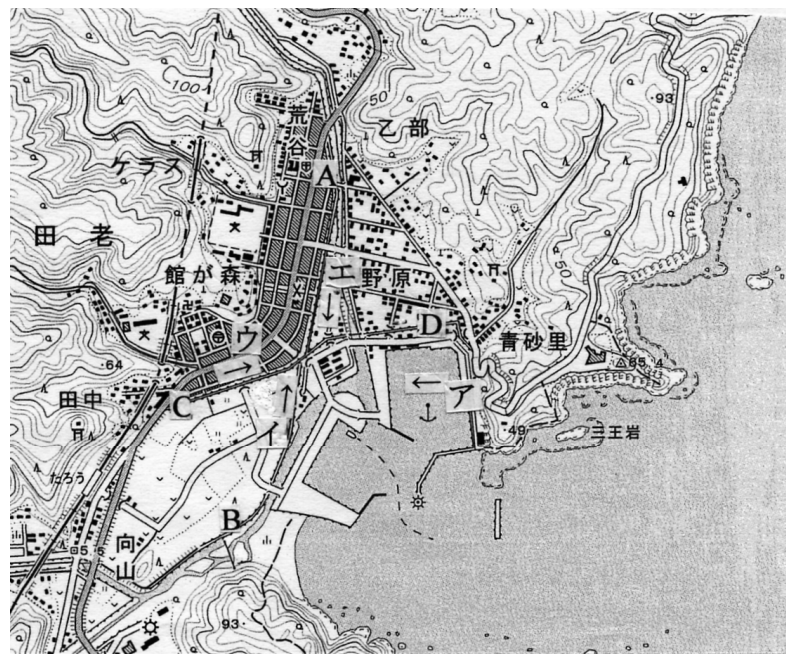



図2



- (1) 図1の  の地域にみられる特徴ある海岸地形は何とよばれているか。答えなさい。
- (2) 地形図中の A - B、C - D は同じ役目をもった構造物である。その役目の説明として最もふさわしいものを、次のア～エから1つ選び、記号で答えなさい。
- ア．河川の氾濫から農地を守る堤防である。
 - イ．農業用水路である。
 - ウ．ヤマセから農地や民家を守る防風堤である。
 - エ．津波の被害を防ぐ防潮堤である。
- (3) 地形図から読み取ることのできることがらとして誤っているものを、次のア～エから1つ選び、記号で答えなさい。
- ア．町では、西部に家屋が多く集まっている。
 - イ．港の入り口にある三王岩の北側の崖 (海蝕崖) の高さは 100m ほどである。
 - ウ．海岸には崖 (海蝕崖) や岩礁が発達している。
 - エ．フェリーの発着場がある。
- (4) 下の写真は、(2) の構造物を中心に撮影したものである。この写真の撮影方向として正しいものを、地形図中の矢印ア～エから1つ選び、記号で答えなさい。



受 検 番 号	
------------------	--

次の表は、ある人の人生を一覧表にしたものである。あとの問いに答えなさい。

0 歳	<u>誕生</u>	
6 歳	<u>義務教育の開始</u>	
14 歳	<u>犯罪を犯すと少年法の適用がある</u>	
20 歳		<u>成人式</u> に出席する
25 歳	<u>被選挙権</u> を持つ	
42 歳		初めて <u>海外旅行</u> をする
60 歳		勤めていた会社を退職する
	<u>逝去</u>	

(1) 下線部 について、以下の問い () と () に答えなさい。

) 0 歳児の平均余命を一般に平均寿命という。2006 年の日本人 (男女平均) の平均寿命として最も適当なものを次のア～オから 1 つ選び、記号で答えなさい。

ア . 約 72 歳 イ . 約 77 歳 ウ . 約 82 歳 エ . 約 87 歳 オ . 約 92 歳

) 下の表は、新生児の産まれる場所、産まれる際の新生児・妊産婦の死亡率、及び産科の医師数 (人口 1 万人比) の推移を示している。この表から考えることのできることがらとして適当でないものを、次のア～エから 1 つ選び、記号で答えなさい。

西暦 (年)	新生児の産まれる場所 (%)			新生児・妊産婦の死亡率 (%)		産科の医師数 (人口 1 万人比)
	病院	診療所 助産所	自宅 その他	新生児死亡率	妊産婦死亡率	
1950	2.9	1.6	95.4	2.74	0.161	----
1960	24.1	26.0	49.9	1.70	0.117	1.49 人
1970	43.3	52.7	3.9	0.87	0.048	1.33 人
1980	51.7	47.8	0.5	0.49	0.019	1.36 人
1990	55.8	44.1	0.1	0.26	0.008	1.25 人
2000	53.7	46.2	0.2	0.18	0.006	1.14 人

ア . 2000 年は新生児の 9 割以上が病院や診療所・助産所で産まれているが、1950 年は新生児の 9 割以上が自宅・その他で産まれていることから、この 50 年間に産産に関する医療体制は変化したと考えられる。

イ . 人口 1 万人に対する産科の医師数は、1960 年から 2000 年で一貫して減少しており、今後は、安心して産産できるように産科の医師数が増加することが期待される。

ウ . 病院で産産する割合は、1960 年に比べて 2000 年は 2 倍以上に上っているが、人口 1 万人に対する産科の医師数の割合が減少しているため、産科の医師の一人あたりの負担が増大していると推測できる。

エ . 生まれる際の新生児・妊産婦の死亡率が期間を通じて一貫して減少しているが、これは、医療技術の向上と関係があると思われる。

受 検 番 号	
------------------	--

(2) 下線部 について、以下の問い () と () に答えなさい。

) 教育を受ける権利は、日本国憲法の定める基本的人権のうち、どの権利に分類されるか。次のア～エから正しいものを1つ選び、記号で答えなさい。

- ア．自由権 イ．社会権 ウ．参政権 エ．^{せいぎせう} 国務請求権

) 日本国憲法で定められている義務教育の規定は、どのような形で具体化されているか。その説明として正しいものを、次のア～エから1つ選び、記号で答えなさい。

- ア．小学校の6年間は、すべての児童が自宅に最も近いところにある小学校に通学しなければならない。
 イ．小学校では午前・午後と授業を行うので、すべての小学校で給食を行わなければならない。
 ウ．小学校・中学校の計9年間は、授業で使用する教科書を^{むじゆう} 無償で配布しなければならない。
 エ．小学校・中学校での学習の成果を確認するため、すべての生徒は高校を受験しなければならない。

(3) 下線部 について、未成年の犯罪の取り扱^{あつか}いについて定めた少年法の規定内容として最も適当なものを、次のア～エから1つ選び、記号で答えなさい。

- ア．少年法は未成年の男子の刑事責任を問うことが目的であり、未成年の女子には適用しない、と規定している。
 イ．^{ぎよくたい} 虐待を受けたと思われる少年を発見した者は、^{すみ} 速やかに少年院に通告しなければならない、と規定している。
 ウ．氏名、^{ねんれい} 年齢、^{ようぼう} 容貌など、事件の犯人と推測させる記事や写真は出版物に^{けいさい} 掲載してはならない、と規定している。
 エ．少年が起こした事件が^{じゆうとう} 強盗など重大な場合は、一般市民から選ばれた裁判員が裁判官と協力して裁判を進める、と規定している。

(4) 下線部 について、成人 (20 歳) になって初めて与えられる資格や権利として正しいものを、次のア～カから2つ選び、記号で答えなさい。

- ア．労働する イ．選挙権を得る ウ．年金をもらう
 エ．結婚する オ．タバコを吸う カ．自動車の運転免許をとる

(5) 下線部 について、25 歳になって初めて^ひ 被選挙権を行使できるものとして適当でないものを、次のア～カから2つ選び、記号で答えなさい。

- ア．都道府県知事 イ．都道府県議会の議員 ウ．衆議院議員
 エ．市町村長 オ．市町村議会の議員 カ．参議院議員

(6) 下線部 について、以下の問い () ～ () に答えなさい。

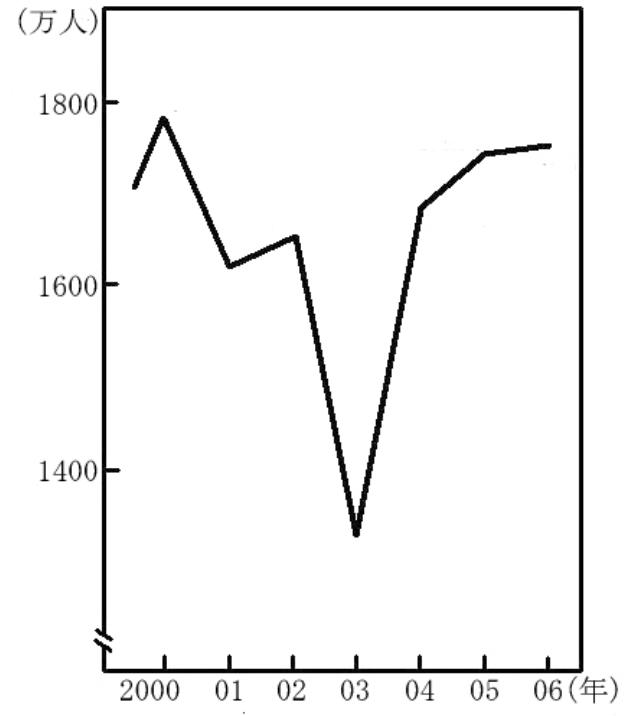
) 右のグラフは、2000 年以降の日本人の海外旅行者数を示している。2003 年の海外旅行者数が一時的に減少しているが、その理由として考えられることとして適当なものを、次のア～オから2つ選び、記号で答えなさい。

- ア．アメリカ同時多発テロ イ．スマトラ島^{じしん} 沖地震
 ウ．鳥インフルエンザ エ．イラク戦争の開始
 オ．新型肺炎 (SARS)

) 日本国内で通用する通貨 (円) と外国通貨 (アメリカドル) との関係について述べた以下の文のうち、空らん (x) にあてはまる語句を漢字 2 字で記しなさい。

1 ドルの値段が 115 円から 110 円に変化することを、「(x) になった」という。

) 国際連合の加盟国のうち、現在、日本と国交のない国が一国ある。その国名を記しなさい。



受 検 番 号	
------------------	--

(1)		(2)		(3)		(4)		(5)		
(6)		(7)		(8)		(9)				
(10)		(11)		(12)						

(1)			世紀			
(2)	i)	A			B	
	ii)					
(3)				(4)		

(1)				(2)		(3)		(4)	
-----	--	--	--	-----	--	-----	--	-----	--

(1)	i)		ii)		(2)	i)		ii)	
(3)			(4)	と		(5)	と		
(6)	i)	と		ii)		iii)			

受 検 番 号		得 点	
------------------	--	--------	--