

解答はすべて（その6）の解答用紙に記入すること

次のA～Gの文は、明治時代以前の日本と外国との関係について述べている。あとの問いに答えなさい。

- A．ポルトガル人が種子島に來航し、鉄砲を伝えた。
- B．ハンブルという文字を使う国から、將軍がかわるたびに使節団が訪れた。
- C．太政大臣という位に就いた権力者が、兵庫の港を修築して中国と貿易をおこなった。
- D．中国から倭寇の取り締まりを求められた幕府は、合わせ札を使った貿易を始めた。
- E．天皇を中心とする国づくりのために、有力な豪族が倒される事件がおこったが、これには、新しい時代になった中国から帰国した留学生なども協力した。
- F．モンゴル人の支配下にあった中国が、朝鮮半島の国を従えて、2度九州北部に攻めて来た。
- G．九州のキリシタン大名が、4人の少年をローマに派遣した。

- (1) A～Gを年代の古いものから並べた場合、3番目になるものと6番目になるものをA～Gの記号で答えなさい。
- (2) C・D・Eの中国とは、それぞれどの時代か。正しい組み合わせを次のア～カから1つ選び、記号で答えなさい。
- ア．C - 明、D - 清、E - 宋 イ．C - 唐、D - 宋、E - 明 ウ．C - 宋、D - 明、E - 唐
- エ．C - 明、D - 宋、E - 清 オ．C - 宋、D - 清、E - 明 カ．C - 清、D - 明、E - 唐
- (3) 次の) ～) の文は、どの時期に最も近いか。上のA～Gから1つずつ選び、記号で答えなさい。
-) マゼランは、フィリピンで亡くなったが、残された部下たちが人類史上初の世界一周をなしとげた。
-) マルコ＝ポーロがシルクロードで中国を訪問し、帰国後「東方見聞録」を残した。
-) ジョージ＝ワシントンは、イギリスに対する独立戦争の司令官として活躍し、アメリカ合衆国の初代大統領となった。
-) 三蔵法師（玄奘）は仏教の経典を求めてインドへ旅をしたが、これが「西遊記」のモデルとなった。
- (4) Dの幕府の時代について、その対外関係を述べた文のうち、次のア～エから誤っているものを1つ選び、記号で答えなさい。
- ア．中国へ修行に行った雪舟が、日本風の水墨画を確立した。
- イ．栄西や道元は中国から帰国後、日本で禅宗を広めた。
- ウ．貿易港として栄えた堺や博多では、町衆が勢力を強め、自治をおこなうようになった。
- エ．幕府だけではなく、有力な守護大名も貿易に乗り出した。
- (5) Fの朝鮮半島の国とは何か。漢字で答えなさい。

受 検 番 号	
------------------	--

右の表は、明治時代以降に日本が関わった戦争を示している。あとの問いに答えなさい。

(1) 右の表の期間A～Eに当てはまる出来事を、次のア～クから選びなさい。

なお、選ぶ出来事は各期間とも1つまたは2つである。

ア．シベリア出兵に備えた米商人の買占めにより、米騒動がおこった。

イ．日英同盟が結ばれた。

ウ．サンフランシスコ講和会議が開かれた。

エ．甲午農民戦争がおこった。

オ．日独伊三国軍事同盟が結ばれた。

カ．三国干渉がおこなわれた。

キ．日本が韓国を併合した。

ク．日本が国際連盟から脱退した。

A
日清戦争が始まる
B
<u>日露戦争</u> が始まる
C
第一次世界大戦が始まる
D
第二次世界大戦が始まる
E

(2) 下線部のサンフランシスコ講和会議と同時に実現したものはどれか。

次のア～エから1つ選び、記号で答えなさい。

ア．日本とソ連の国交が回復した。

イ．日本が国際連合に加盟した。

ウ．日中平和友好条約が結ばれた。

エ．日米安全保障条約が結ばれた。

(3) 下線部の三国干渉の三国とはどこか。次のア～エから1つ選び、記号で答えなさい。

ア．ロシア・ドイツ・フランス

イ．ドイツ・イギリス・アメリカ

ウ．イギリス・ロシア・フランス

エ．アメリカ・フランス・ロシア

(4) 下線部の日露戦争について誤っている文はどれか。次のア～エから1つ選び、記号で答えなさい。

ア．アメリカ大統領の仲立ちで結ばれたポーツマス条約で終了した。

イ．樺太(サハリン)の南半分や南満州の鉄道が日本のものになった。

ウ．この戦争で得た賠償金で、八幡製鉄所が造られた。

エ．この戦争の時、日本はまだ関税自主権を回復していなかった。

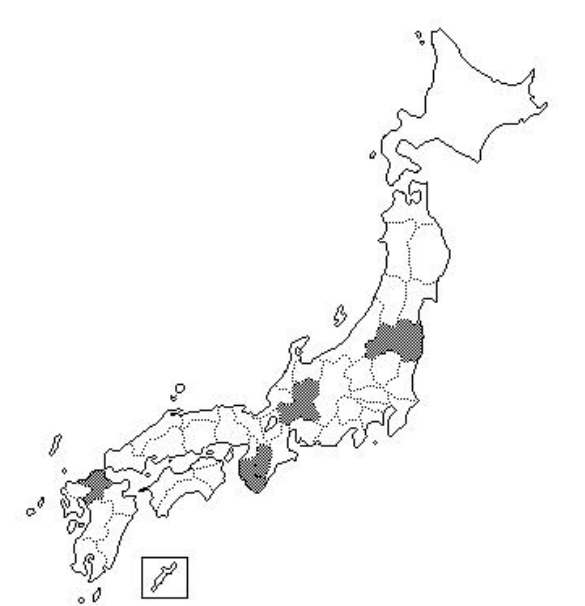



受 検 番 号	
------------------	--

日本の果物の生産 (2005 年) について、あとの問いに答えなさい。

(1) 次の表は、りんご、ぶどう、もも、さくらんぼの生産量上位 5 位までの都道府県を並べたものであり、表中の空らん (ア) ~ (オ) にはそれぞれ同じ都道府県名が入る。空らん (ア) ~ (オ) をそれぞれ漢字で答えなさい。

	りんご	ぶどう	もも	さくらんぼ
1 位	(ア)	(オ)	(オ)	(ウ)
2 位	(イ)	(イ)	(エ)	(ア)
3 位	岩手県	(ウ)	(イ)	(オ)
4 位	(ウ)	岡山県	和歌山県	北海道
5 位	(エ)	福岡県	(ウ)	

(2) 次の図は、柿、びわ、日本なし、西洋なしの生産量上位 5 位までの都道府県を示している。このうち、柿と西洋なしにあたるものを、次のア ~ エからそれぞれ 1 つずつ選び、記号で答えなさい。

<p>ア .</p> 	<p>イ .</p> 
<p>ウ .</p> 	<p>エ .</p> 

受 検 番 号	
------------------	--

下の表は、はるかさんが学校で買物調べをしたときに作成した表である。この表を見て、あとの問いに答えなさい。

店	A	B	C	D
品ぞろえ	食料品、衣料品、雑貨、家具、家電製品など	弁当やパン、菓子、雑誌、飲み物、日用品など	特定のもの（野菜だけ、衣料品だけ、など）	食料品、衣料品、雑貨、家具、家電製品など
売り場の広さ	広い	狭い	狭い	広い
買い物の仕方	自分で棚から商品を取って最後にレジで支払う	自分で棚から商品を取って最後にレジで支払う	店の人と対話し、最後にその人に支払う	店の人と対話し、最後にその人に支払う
買い物客	遠くからもたくさん来る	多くが近所の人	(x)	遠くからもたくさん来る
主な交通手段	自転車や車	徒歩や自転車	(y)	主に電車（車も可能）

(1) 表中のA～Dに当てはまる店を、次のア～エから1つずつ選び、記号で答えなさい。

- ア．近所の商店街の店 イ．郊外の大型スーパーマーケット
ウ．駅前のコンビニ エ．繁華街にある百貨店

(2) 表中の(x)と(y)にあてはまる言葉を、次のア・イまたはア～ウから1つずつ選び、記号で答えなさい。

- (x)：ア．多くが近所の人 イ．遠くからもたくさん来る
(y)：ア．自転車や車 イ．徒歩や自転車 ウ．主に電車

(3) コンビニというのは省略した言い方である。正しくは何といいますか。

(4) AやBの店のような買い物の仕方を何方式といいますか。

(5) 次の文は、店にきた人に、どんなときにその店を利用するかについてアンケートをした答えである。A～Dにあてはまるものを次のア～クから2つずつ選び、記号で答えなさい。

ア．今日から歳末大売出しで、アーケード内の3店舗で買物すると抽選ができます。ハワイ旅行があたるといいな。

イ．今は会社の帰りです。休日に来ることもあります。今日はお世話になった人へのお歳暮と、宝石を見にきました。

ウ．今日は電気料金の支払いにきました。朝早く出かける前にお金をおろしに寄ることもあります。

エ．魚を食べたいときは、いつもこの店と決めています。とても新鮮で、お店の人もお薦めの品や、魚に合った食べ方も教えてくれるし、たくさん買ったときには、少しまけてくれることもあります。

オ．この週末は、家族で映画を見た後、同じ敷地内のこの店で、一週間分の食料品を買って帰るつもりです。

カ．朝寝坊をしてご飯を食べる時間のなかったときには、助かります。この前は、最終電車を逃した友達が急に家に泊まることになって、歯ブラシや替えの下着を買いにきました。

キ．家が商売をしていて忙しいので、有名店のお惣菜を買って帰り、優雅に外食気分を味わうつもりです。

ク．今日は卵と肉の特売日というチラシをみて来ました。今、テレビやステレオもセール中と聞いたので、後で寄ってみるつもりです。

受 検 番 号	
------------------	--

次の表は、平成 19 年度予算（一般会計）の歳入のうち、税金（印紙収入を含む）による収入をまとめたものである。この表を見て、あとの問いに答えなさい。

税の名称	金額
A . 所得 税	16 兆 5450 億円
B . 法 人 税	16 兆 3590 億円
C . 消 費 税	10 兆 6450 億円
D . その他の税（印紙収入を含む）	9 兆 9180 億円
合 計	53 兆 4670 億円

(1) 表にあげた税金による収入は、歳入総額の約何%にあたるか。最も近いものを次のア～エから 1 つ選び、記号で答えなさい。

ア . 45% イ . 55% ウ . 65% エ . 75%

(2) 「 A . 所得税」は、原則として、所得が多くなればなるほど税率が高くなる。このような制度を何というか。次のア～エから 1 つ選び、記号で答えなさい。

ア . 源泉徴収制度 イ . 申告納税制度 ウ . 資産課税制度 エ . 累進課税制度

(3) 「 B . 法人税」について述べた文のうち、次のア～エから正しいものを 1 つ選び、記号で答えなさい。

- ア . 会社などの所得にかかる税である。
 イ . 所有する不動産にかかる税である。
 ウ . 他の市町村への転入手続きをしたときにかかる税である。
 エ . 私立学校を設立した時にかかる税である。

(4) 「 C . 消費税」について、以下の問い () と () に答えなさい。

() 納められた消費税は、国の収入と都道府県の収入とに分けられる。都道府県の収入は国の収入の 25% とされている。200 万円の商品を買ったときに納められる消費税のうち、都道府県の収入になるのはいくらですか。

() 日本と諸外国の消費税（付加価値税と言うこともある）との比較について述べた文のうち、次のア～エから正しいものを 1 つ選び、記号で答えなさい。

- ア . 消費税を設けている国は日本やイギリスなど、世界でも数カ国のみである。
 イ . 日本よりも税率が高い国が多く、ヨーロッパには 20% をこえる国もある。
 ウ . 日本の税率は先進国の中でも最も高い。
 エ . 税率は国際条約によって定められており、どの国でも一定である。

(5) 「 D . その他の税」について、以下の問い () と () に答えなさい。

() 海外からの輸入品にかかる税のことを何というか。漢字で答えなさい。

() 「その他の税」に含まれないものを次のア～カから 2 つ選び、記号で答えなさい。

ア . 贈与税 イ . 環境税 ウ . 酒税 エ . 揮発油税 オ . 固定資産税 カ . 相続税

(6) 日本の税には、税を納める人と実際に負担する人が異なるものがある。このことについて、以下の問い () と () に答えなさい。

() このような税を何というか。漢字で答えなさい。

() このような税にあたるものを、表中の A ～ C から 1 つ選び、記号で答えなさい。

受 検 番 号	
------------------	--

(1)	3 番 目		6 番 目		(2)			
(3)	i)		ii)		iii)		iv)	
(4)		(5)						

(1)	A		B		C	
	D		E			
(2)		(3)		(4)		

(1)	ア		イ		ウ			
	エ		オ		(2)	柿		西洋なし

(1)	A		B		C		D		(2)	x		y	
(3)					(4)							方式	
(5)	A		と		B		と						
	C		と		D		と						

(1)		(2)		(3)	
(4)	i)		円	ii)	
(5)	i)			ii)	と
(6)	i)			ii)	

受 検 番 号		得 点	
------------------	--	--------	--